

ВСЕРОССИЙСКАЯ ОЛИМПИАДА ШКОЛЬНИКОВ
по географии 2018/19 учебный год

ЗАДАНИЯ
школьного этапа Всероссийской олимпиады школьников по
географии
8 класс

Уважаемые школьники!

Поздравляем Вас с участием в школьном этапе Всероссийской олимпиады школьников по географии! Внимательно прочитайте каждое задание и попробуйте найти правильный вариант ответа.

В задания включены вопросы, в которых нужно установить соответствие, объяснить или дописать правильный на ваш взгляд вариант ответа.

Максимальное количество баллов за теоретический тур школьного этапа Всероссийской олимпиады школьников по географии составляет 25 баллов.

Время, отведенное на выполнение заданий тестовой части, составляет 45 минут.

ПРИМЕЧАНИЕ. Для ответов используйте только «листы ответа». Пишите разборчиво, пользуйтесь авторучкой, а не карандашом. Ответы на черновиках не проверяются и не оцениваются. Не разрешается: пользоваться любыми атласами, справочниками, мобильными телефонами, смартфонами, компьютерами.

Разрешается пользоваться (пустой) контурной картой, которая выдаётся вместе с листами для черновиков.

Желаем успеха!

Задания тестовой части
8 класс

1. Время в населенных пунктах, расположенных на линии одного меридиана, называется?

- а) поясным
б) декретным
в) местным
г) летним

1 балл

2. Определите, какому типу климата соответствует описание:

Преобладает западный перенос ветров и циклональная деятельность. Зима не очень холодная, лето теплое. От +12-14°C, на севере, до +22°C на юге.

- а) умеренно-континентальный
б) умеренный
в) континентальный
г) умеренный-муссонный

1 балл

3. Какой из перечисленных материков имеет наибольшую среднюю высоту твердой поверхности над уровнем моря?

- а) Антарктида
б) Южная Америка
в) Евразия
г) Северная Америка

1 балл

4. В каком районе страны были зафиксированы максимальные положительные температуры воздуха?

- а) Юг Дальнего Востока
б) Черноморское побережье Кавказа
в) Прикаспийская низменность
г) Забайкалье

1 балл

5. К холодным течениям относятся:

- а) Перуанское и Гольфстрим
б) Гольфстрим и Калифорнийское
в) Лабрадорское и Куроисио
г) Калифорнийское и Перуанское

1 балл

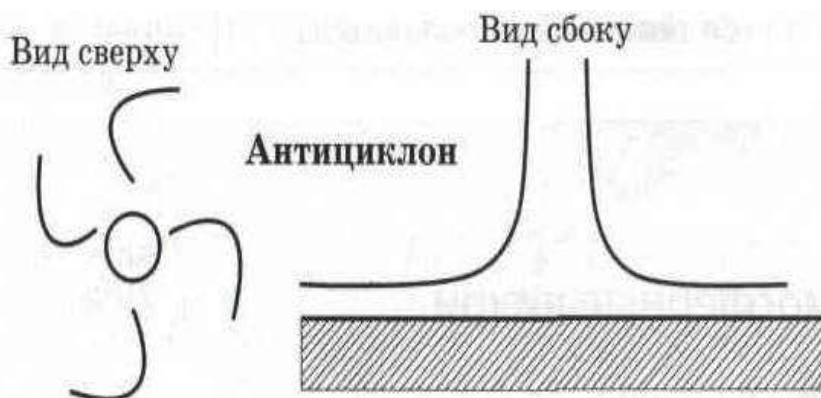
6. Установите соответствие «явление - признак»:

1) атмосферный фронт	2) трансформация	3) циклон	4) антициклон

- а) область высокого атмосферного давления;
б) область низкого атмосферного давления;
в) полоса столкновения двух воздушных масс;
г) изменение свойств воздушных масс при движении над той или иной территорией.

1 балл

7. Завершите рисунок, схематически изображающий антициклон:



2 балла

8. Незамерзающим портом России является?

- | | | |
|------------|----------------|--|
| а) Диксон | в) Мурманск | |
| б) Магадан | г) Архангельск | |

1 балл

9. Установите соответствие между островом и акваторией, которая омывает его берега:

- | | |
|--------------|------------------------------|
| а) Куба | 1. Восточно - Сибирское море |
| б) Шри-Ланка | 2. Охотское море |
| в) Врангеля | 3. Карибское море |
| г) Сахалин | 4. Бенгальский залив |

2 балла

10. На какой высоте горы Монблан (4800 м), будет находиться снеговая граница если у ее подножия среднегодовая температура воздуха составляет + 15 °С.

- | | |
|-----------|-----------|
| а) 1,3 км | в) 2,5 км |
| б) 4 км | г) 4,8 км |

1 балл

11. Что явилось главным результатом Великой Северной экспедиции?

- а) достижение Северного полюса;
- б) изучение и картирование побережья Северного Ледовитого океана;
- в) присоединение к России территории Сибири и Дальнего Востока;
- г) открытие архипелага Новая Земля.

1 балл

12. Определите, о какой природной зоне Африки идет речь:

Здесь два сезона года – сухой зимний и влажный летний. Эта зона занимает около 40 % площади материка:

- а) зона влажных экваториальных лесов;
- б) зона саванн;
- в) зона тропических пустынь;
- г) зона жестколистных лесов и кустарников.

1 балл

13. Выберите правильную последовательность смены природных зон на Алтае от подножий – к вершинам:

- а) гольцы – горные тундры – леса – альпийские луга;
- б) леса – альпийские луга – горные тундры – гольцы;
- в) горные тундры гольцы – альпийские луга - леса;
- г) альпийские луга – гольцы – горные тундры – леса.

1 балл

14. Птица, поражающая красотой своего оперения, эндемик Дальнего Востока?

- а) сорока
- б) утка-мандаринка
- в) земляной дрозд
- г) кедровка

1 балл

15. Крупнейший центр горного оледенения на территории России - это:

- а) Алтай
- б) Верхоянский хребет
- в) Кавказ
- г) Хибины

1 балл

16. Из какого района Великий ледник пришёл на европейскую территорию нашей страны?

- а) Со Скандинавских гор
- б) С Новой Земли
- в) С Кавказа
- г) С Урала

1 балл

17. Льянос занимает, в основном, территорию:

- а) Амазонской низменности
- б) Ла-Платской низменности
- в) Оринокской низменности
- г) Гвианского плоскогорья

1 балл

18. Укажите порядок расположения перечисленных геологических периодов от самого древнего к самому молодому:

- а) Девон
- б) Кембрий
- в) Ордовик
- г) Пермь
- д) Силур
- е) Триас

2 балла

19. Из перечисленных животных эндемиками Австралии являются:

- а) Коала и страус эму
- б) Крокодил и вомбат
- в) Лама и ленивец
- г) Жираф и кенгуру

1 балл

20. Найдите соответствие между периодами и эрами геологического развития:

а) Кайнозойская	б) Мезозойская	в) Палеозойская

1. Девонский
2. Меловой
3. Неогеновый
4. Ордовикский
5. Пермский
6. Триасовый

3 балла

ВСЕРОССИЙСКАЯ ОЛИМПИАДА ШКОЛЬНИКОВ
по географии 2018/19 учебный год

ЗАДАНИЯ
школьного этапа Всероссийской олимпиады школьников по
географии
8 класс

Уважаемые школьники!

Внимательно прочитайте каждое задание и попробуйте найти правильный вариант ответа.

В задания включены вопросы, в которых нужно установить соответствие, объяснить или дописать правильный на ваш взгляд вариант ответа.

Максимальное количество баллов за аналитический тур школьного этапа Всероссийской олимпиады школьников по географии составляет 60 баллов.

Время, отведенное на выполнение заданий аналитического тура, составляет 90 минут.

ПРИМЕЧАНИЕ. Для ответов используйте только «листы ответа». Пишите разборчиво, пользуйтесь авторучкой, а не карандашом. Ответы на черновиках не проверяются и не оцениваются. Не разрешается: пользоваться любыми атласами, справочниками, мобильными телефонами, смартфонами, компьютерами.

Разрешается пользоваться (пустой) контурной картой, которая выдаётся вместе с листами для черновиков.

Желаем успеха!

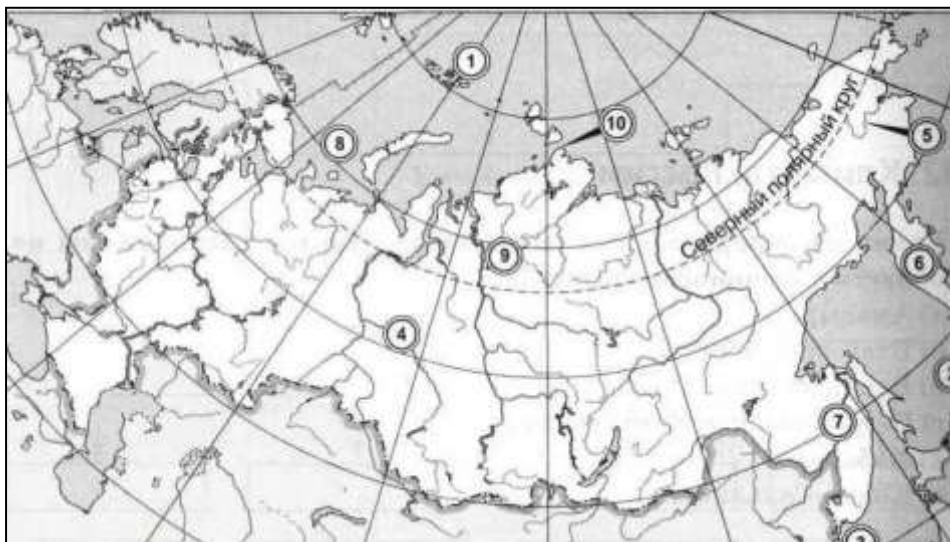
Задания аналитического тура

8 класс

Задание 1.

Укажите названия географических объектов, обозначенных цифрами:

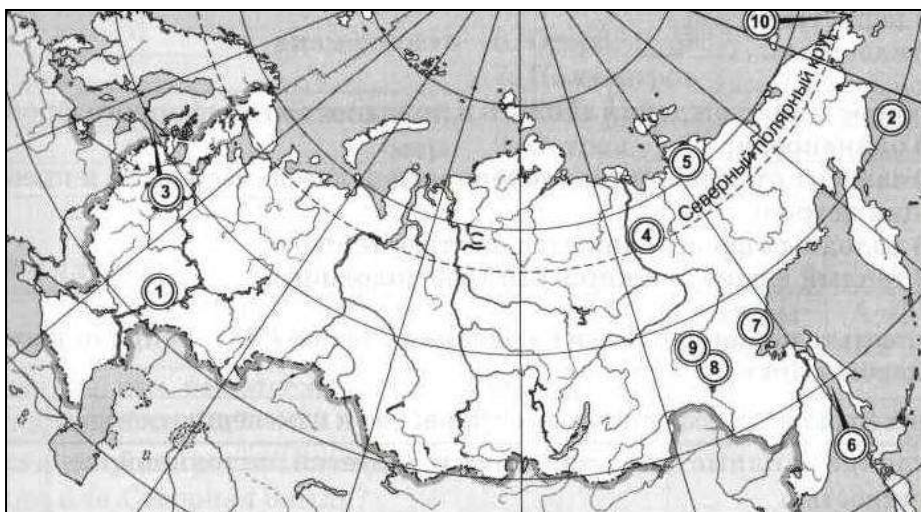
Карта - А



1. Острова
2. Острова
3. Залив
4. Река
5. Река
6. Полуостров
7. Река
8. Море
9. Плато
10. Мыс

(10 баллов)

Карта - Б



1. Возвышенность
2. Море
3. Залив
4. Хребет
5. Низменность
6. Пролив
7. Хребет
8. Хребет
9. Нагорье
10. Мыс

(10 баллов)

Задание 2.

Почему древние египтяне поклонялись Нилу как доброму богу, а жители Междуречья считали Евфрат и особенно Тигр злыми богами? Ответ обоснуйте?

(8 баллов)

Задание 3.

В печати широко обсуждается проблема глобального потепления климата. А какие проблемы может вызвать глобальное похолодание. Ответ обоснуйте - по 2 балла за каждый верный ответ.

(14 баллов)

Задание 4.

Соединив линиями слова, составьте тройки «изолиния - единица измерения - величина». Впишите недостающие элементы и найдите для каждого из них соответствующую пару. Как обычно называют изогипсу? - по 1 баллу за каждый верный ответ. Максимальная оценка - **13 баллов**

Изобара	‰	высота над уровнем моря
Изогалина	°C	скорость ветра
Изогиета	мм	соленость воды
Изогипса	мм.рт. ст.	сумма осадков
Изоаха	м/с	температура
Изотерма	м	атмосферное давление

ИЗОЛИНИЯ	ЕДИНИЦА ИЗМЕРЕНИЯ	ВЕЛИЧИНА
Изобара		
Изогалина		
Изогиета		
Изогипса		
Изоаха		
Изотерма		

Изогипсу обычно называют _____

Задание 5.

Почему города и поселки среднего и нижнего Поволжья, находящиеся на правобережье, стоят у самой реки, а населенные пункты левобережья, за редким исключением, расположены на один—два километра и далее от Волги?

(5 баллов)